



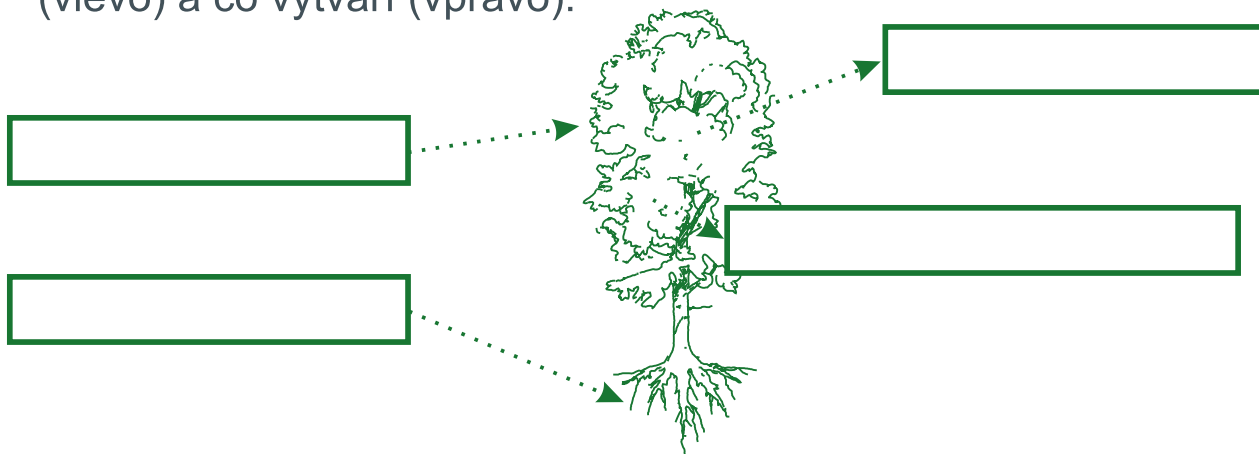
CO TO ŠUMÍ NAD NÁMI?




Čím jsou pro nás stromy významné?

.....

Doplňte do rámečků v obrázku, co rostlina při fotosyntéze přijímá (vlevo) a co vytváří (vpravo).



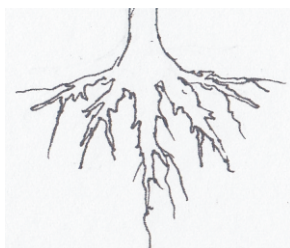
Proč listy na podzim opadávají?
Co způsobuje změnu barvy podzimního listí?



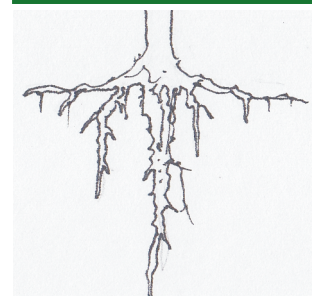
Pojmenujte tři základní typy kořenových systémů.
Ke každému z nich napište alespoň jeden strom,
který má takové kořeny.



.....



.....



.....

Co raší u jasanu ztepilého dřívce?

LISTY

KVĚTY

Přiřadte, která šiška patří smrku ztepilému a která jedli bělokoré. Kterou z nich nenajdete nikdy na zemi pod stromem? Víte proč?



JEDLE BĚLOKORÁ

SMRK ZTEPILÝ



Jak se jmenuje náš jediný opadavý jehličnatý strom?



Kdy vznikají širší letokruhy stromu? A kdy naopak ty užší?

Přiřadte k vybraným druhům stromů jejich plody, listy nebo větvičky.



JEDLE BĚLOKORÁ

SMRK ZTEPILÝ

OLŠE LEPKAVÁ

BUK LESNÍ

LÍPA SRDČITÁ

JAVOR MLÉČ

TRNKA OBECNÁ



Co je to „glaciální relikty“?

Znáte nějaký český strom, který se řadí mezi glaciální relikty?



Květy kterého stromu patří mezi první jarní potravu včel?

- a) jedle bělokorá
- b) jeřáb ptačí
- c) líska obecná

